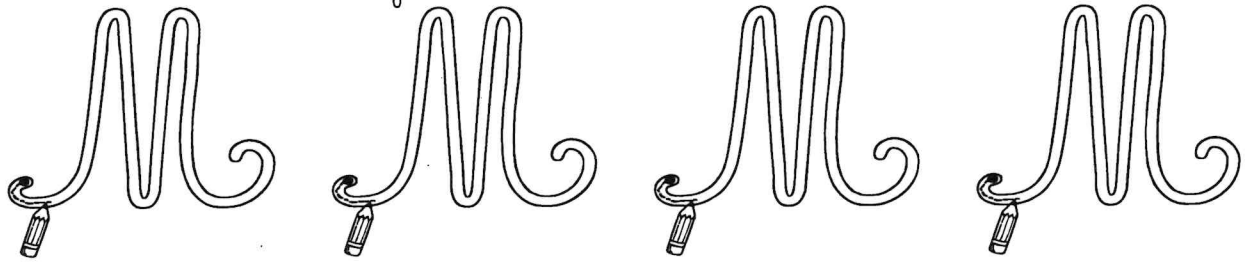


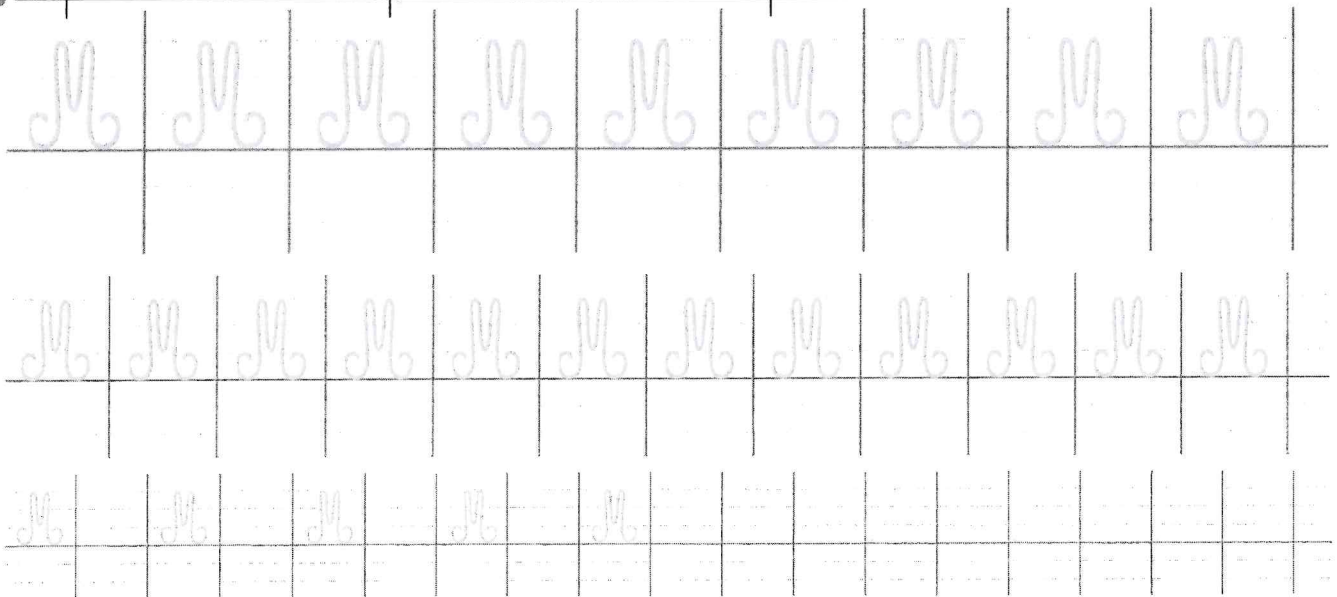
Aujourd'hui, nous sommes :

jeudi 11 janvier

1 Trace le chemin de la majuscule.



2 Repasse sur les modèles puis continue seul sur les points.



3 Recopie chaque mot deux fois.

Mélanie

Mathias

Miguel

4 Recopie toute la phrase en écriture cursive.

Mercredi, Maëlys mangera à Marseille avec son ami Maxime.

Prénom :

Date : *Jeudi 11 janvier*

Les nombres jusqu'à 999 (1)

Numération

Ecris le nombre correspondant :

100	10	1
100	10	
100	10	
100	10	
100		
100		
100		

100	10	1
100	10	1
100	10	1
	10	
	10	
	10	

100		1
100		1
100		1
100		1
100		1
100		1
100		1

100	10	1
100	10	1
100		1
100		

Prénom :

Date : jeudi 11 janvier

Les nombres jusqu'à
999 (2)

Numération

1. Complète le tableau :

Nombre en chiffres	Nombre en lettres
770	
800	
634	
904	
766	
	six-cent-quarante-trois
	huit-cent-dix-huit
	neuf-cent-trente-six
	sept-cent-vingt-sept

2. Décompose les nombres comme le modèle :

689	$600 + 80 + 9$
999	
760	
604	
821	
	$600 + 90 + 1$
	$900 + 4$
	$800 + 30 + 2$

feuille 11 janvier

① Entoure seulement les verbes qui se conjuguent comme *donner*.

danser – marcher – boire – souffler – dire – parler – être –
prendre – avoir – manger – rire – peindre – s’amuser –
coudre – vouloir – chanter – pouvoir – poster – fleurir

② Relie chaque pronom personnel sujet à son verbe.

Attention aux accords !

- | | |
|--------|-------------------------|
| Je • | • passent leur tour. |
| Tu • | • rentrons à la maison. |
| Nous • | • postez une lettre. |
| Ils • | • appelle un ami. |
| Elle • | • marches trop vite. |
| Vous • | • plie une feuille. |

③ Barre les formes du verbe qui ne conviennent pas et récris la phrase correcte sur ton cahier.

a. Camille gonfles gonfle gonflent les pneus de son vélo.

= _____

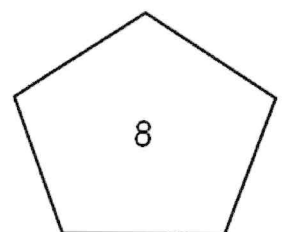
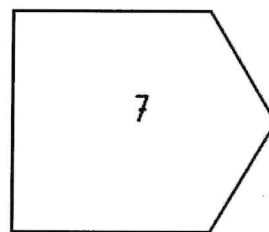
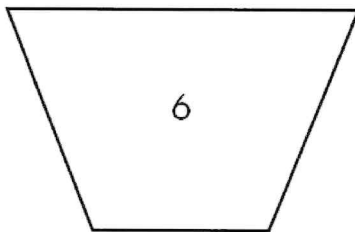
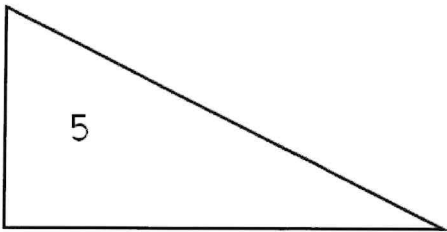
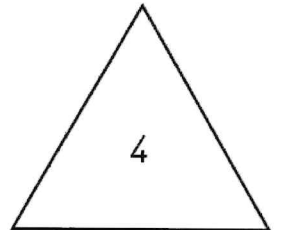
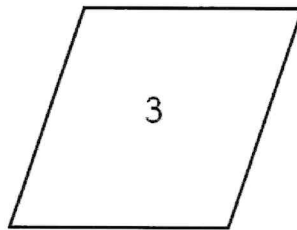
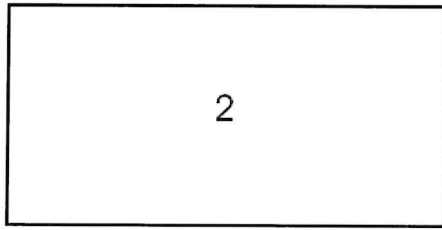

b. Nous étalent étalez étalons de la confiture sur notre pain.

c. Les enfants ranges rangent ranges leurs jouets.

= _____

jeudi 11 janvier

1 Observe ces polygones. Puis fais les exercices suivants.

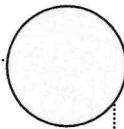


2 Colorie les figures ci-dessus selon la légende.

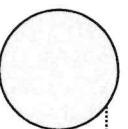
- Rouge : triangles
- Vert : quadrilatères
- Bleu : pentagones

3 Retrouve la figure décrite par chaque texte et inscris son numéro dans la bulle.

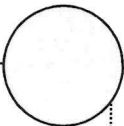
- J'ai 4 côtés.
- Tous mes côtés sont de même longueur.
- J'ai 4 angles droits.



- J'ai 4 côtés.
- Mes côtés opposés sont de même longueur.
- Je n'ai aucun angle droit.



- J'ai 3 côtés.
- J'ai un angle droit.



- J'ai 5 côtés.
- J'ai 2 angles droits.

